




Escola: .....

Data: ..... Turma: ..... ENSINOJA.COM

Aluno: .....

Veja, no gráfico abaixo, quanto pesa cada brinquedo e, depois, responda:



A) Qual o brinquedo **mais pesado**?

- Boneca.
- Trem.
- Carrinho.

B) Quantos quilos pesam o **carrinho** e a **boneca** juntos?

- 12 quilos.
- 13 quilos.
- 14 quilos.

C) Qual a **diferença** de peso entre a **boneca** e o **ursinho**?

- 2 quilos.
- 3 quilos.
- 4 quilos.