



## BLOCO DE ATIVIDADES REGULARIZAÇÃO DE FLUXO SE LIGA

**QUERIDAS ALUNAS E QUERIDOS ALUNOS,**

VOCÊS E SUAS FAMÍLIAS ESTÃO RECEBENDO ESSE “**BLOCO DE ATIVIDADES**” PARA SEREM REALIZADAS DURANTE ESSE PERÍODO DE SUSPENSÃO DE AULAS. CADA BLOCO DE ATIVIDADES DEVERÁ SER RESPONDIDO SEMANALMENTE COM O APOIO DE SEUS FAMILIARES.

SOLICITAMOS QUE RESPEITEM O CRONOGRAMA DE ENTREGA DAS ATIVIDADES. A CADA SEMANA, O SEU RESPONSÁVEL IRÁ NA SUA ESCOLA ENTREGAR O BLOCO RESPONDIDO E PEGARÁ UM NOVO.

ESPERAMOS NOS REENCONTRAR EM BREVE

**SECRETARIA MUNICIPAL DA EDUCAÇÃO**

### **ORIENTAÇÕES:**

- ANTES DE RESPONDER O **BLOCO DE ATIVIDADES**, PROCURE UM LUGAR TRANQUILO E AGRADÁVEL EM SUAS CASAS.
- ORGANIZEM OS MATERIAIS QUE IRÃO PRECISAR, COMO LÁPIS, BORRACHA, CANETA, ETC.
- SE TIVER UM DICIONÁRIO EM CASA, É UMA BOA HORA PARA CONSULTÁ-LO, CASO FIQUE COM DÚVIDA DO SIGNIFICADO DE ALGUMA PALAVRA OU ESCRITA DE ALGUM TERMO/VOCÁBULO.
- LEIA COM ATENÇÃO ANTES DE RESPONDER.
- SE PRECISAR DE AJUDA, PROCURE ALGUÉM DE SUA FAMÍLIA PARA TE AUXILIAR.
- DEPOIS DE REALIZAR AS ATIVIDADES, FAÇA UMA REVISÃO PARA VERIFICAR SE RESPONDEU TODAS AS QUESTÕES.

**ESCOLA:** \_\_\_\_\_

**NOME:** \_\_\_\_\_

**PERÍODO:** 18 A 22 DE MAIO DE 2020.

**ATIVIDADE 1 - 18 DE MAIO DE 2020**

**LÍNGUA PORTUGUESA**

LEIA A CANTIGA E MARQUE UM X NA RESPOSTA CORRETA:

**BORBOLETINHA**

BORBOLETINHA  
TÁ NA COZINHA  
FAZENDO CHOCOLATE  
PARA A MADRINHA  
POTI, POTI  
PERNA DE PAU  
OLHO DE VIDRO  
E NARIZ DE PICA-PAU  
PAU – PAU



1. A BORBOLETINHA ESTÁ NA:

- (A) CASINHA (B) SALINHA  
(C) COZINHA (D) LATINHA

2. A BORBOLETINHA ESTÁ FAZENDO CHOCOLATE PARA QUEM:

- (A) MADRINHA (B) FILHINHA  
(C) AMIGUINHA (D) BORBOLETINHA

3. O NARIZ É DE:

- (A) PERIQUITO (B) PICA-PAU  
(C) PAPAGAIO (D) CANÁRIO

4) LEIA E CIRCULE PALAVRA POR PALAVRA DA QUADRINHA ABAIXO:

A CANOA VIROU  
POIS DEIXARAM ELA VIRAR  
FOI POR CAUSA DA MARIA  
QUE NÃO SOUBE REMAR

QUANTAS PALAVRAS TÊM NA QUADRINHA?

---

**ATIVIDADE 2 - 19 DE MAIO DE 2020**

**LÍNGUA PORTUGUESA**

1) CIRCULE AS PALAVRAS QUE TERMINAM COM O MESMO SOM:

FOCA

LATA

CALA

BALA

BOLA

DEDO


MESA

LIMA

2) FAÇA UM X NA OPÇÃO ONDE ESTÁ ESCRITA A MESMA PALAVRA QUATRO VEZES.

- A) PRAIA, PARA, PAREDE, PAREDE.
- B) PAPEL, PAPELÃO, PASTEL, PASTEL.
- C) COMIDA, COMIDA, COMIDA, COMIDA.
- D) BOLA, BALA, BOLA, BALEIRO.

3) LEIA COM ATENÇÃO.

<p>PEDRINHO,</p> <p>VENHA COMEMORAR COMIGO MEU ANIVERSÁRIO!</p> <p>DIA: 22 DE MAIO DE 2020. HORA: 18:00hs LOCAL: RUA DAS FLORES, 45, CABULA.</p> <p>VOCÊ NÃO PODE FALTAR!</p>	
---	--

O TEXTO ACIMA É:

- A) FÁBULA
- B) BILHETE
- C) CONVITE
- D) RECEITA

4) RELEIA O CONVITE E INFORME:

A) QUEM FOI CONVIDADO? \_\_\_\_\_

B) ONDE SERÁ A FESTA? \_\_\_\_\_

C) QUAL A DATA DA FESTA? \_\_\_\_\_

### ATIVIDADE 3 - 20 DE MAIO DE 2020

#### **SE LIGUE!**

OS NÚMEROS **1, 3, 5, 7, 9** (E OS TERMINADOS COM ELES) SÃO CHAMADOS DE **ÍMPARES**.

EXEMPLO: 111, 123, 25, 39.

OS NÚMEROS **0, 2, 4, 6, 8** (E OS TERMINADOS COM ELES) SÃO CHAMADOS DE **PARES**.

EXEMPLO: 10, 110, 124, 136.

#### PRATICANDO!

1. OBSERVE ESTES NÚMEROS

**30 – 23 – 18 – 10 – 25 – 28 – 45 – 12 – 100**

PENSE E RESPONDA UTILIZANDO OS NÚMEROS OBSERVADOS ACIMA:

A) NÚMEROS MAIORES QUE 45.

---

B) NÚMEROS MENORES DE MENORES QUE 100.

---

C) NÚMEROS PARES.

---

D) NÚMEROS ÍMPARES.

---

2) NUMERE CORRETAMENTE:

**( 1 ) PAR ( 2 ) ÍMPAR**

a) ( ) 40

f) ( ) 125

b) ( ) 12

g) ( ) 138

c) ( ) 18

h) ( ) 120

d) ( ) 33

i) ( ) 07

e) ( ) 123

j) ( ) 08

3) SEPREM EM COLUNAS OS NÚMEROS PARES E OS ÍMPARES.


**220 – 221 – 124 – 80 – 70 – 114 – 55 – 60 – 44 – 100**

PARES

ÍMPARES

**ATIVIDADE 4 - 21 DE MAIO DE 2020**

**VAMOS! DOBRO, TRIPLO, QUÁDRUPLO!**

	<b>DOBRO</b>	<b>TRIPLO</b>	<b>QUÁDRUPLO</b>
	<b>2X</b>	<b>3X</b>	<b>4X</b>

EXEMPLO:  $2 + 2 = 4$  OU  $2 \times 2 = 4$ , OU SEJA, O DOBRO DE 2 É 4.

$2 + 2 + 2 = 6$  OU  $2 \times 3 = 6$ , OU SEJA, O TRIPLO DE 2 É 6.

$2 + 2 + 2 + 2 = 8$  OU  $2 \times 4 = 8$ , OU SEJA, O QUÁDRUPLO DE 2 É 8.

**EXERCITANDO!**

1. DÊ O QUE SE PEDE.

A) O DOBRO DE 3 É = \_\_\_\_\_

B) O DOBRO DE 5 É = \_\_\_\_\_

C) O TRIPLO DE 3 É = \_\_\_\_\_

D) O QUÁDRUPLO DE 3 É = \_\_\_\_\_

2. JOANA TEM 2 CANETAS E ROBERTA TEM O TRIPLO. QUANTAS CANETAS TEM ROBERTA?

\_\_\_\_\_

3. DAIANE GANHOU 3 FIGURINHAS E BEATRIZ GANHOU O TRIPLO. QUANTAS FIGURINHAS GANHOU BEATRIZ?

\_\_\_\_\_

4. MAILSON TEM 10 ANOS E SUA TIA TEM O QUÁDRUPLO DE SUA IDADE. QUANTOS ANOS A TIA DE MAILSON TEM?

\_\_\_\_\_

## ATIVIDADE 5 - 22 DE MAIO DE 2020

1. DECOMPONHA OS NÚMEROS ABAIXO:

A)  $345 = 300 + \underline{\hspace{2cm}} + \underline{\hspace{2cm}}$

B)  $425 = 200 + \underline{\hspace{2cm}} + 25$

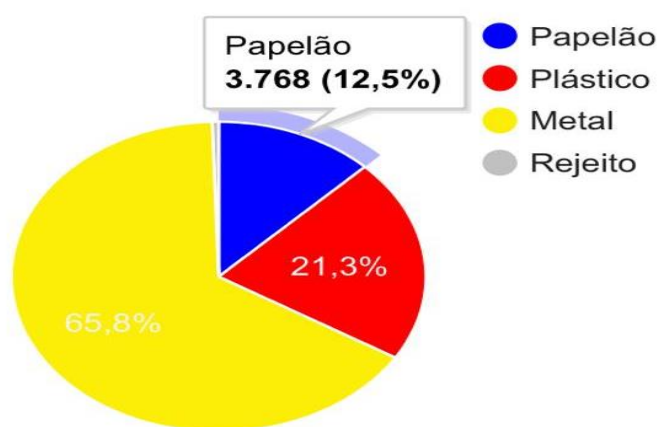
C)  $112 = 100 + 6 + \underline{\hspace{2cm}}$

D)  $75 = 40 + \underline{\hspace{2cm}} + 5$

2. ANDRÉ TRABALHA EM UMA EMPRESA DE RECICLAGEM. ELE REGISTROU NO GRÁFICO A QUANTIDADE DE MATERIAL RECICLÁVEL COLETADO DURANTE UM MÊS NESSA EMPRESA.

**Materiais Coletados**

PAPELÃO	12,5%
PLÁSTICO	21,3%
METAL	65,8%



FONTE: <https://www.menoslixo.com.br/posts/do-meu-lixo-cuido-eu>

A) QUAL FOI O MATERIAL MAIS COLETADO PELA EMPRESA NESSE MÊS?

\_\_\_\_\_

B) QUAL FOI O MATERIAL MENOS COLETADO?

\_\_\_\_\_

C) COLETARAM MAIS PAPELÃO OU MAIS PLÁSTICO?

\_\_\_\_\_

3. CRIE DUAS DECOMPOSIÇÕES NUMÉRICAS.

\_\_\_\_\_ = \_\_\_\_\_ + \_\_\_\_\_

\_\_\_\_\_ = \_\_\_\_\_ + \_\_\_\_\_

TENHA UM FINAL DE SEMANA FELIZ!